

## 6N-sol

### INDICADORES DEMOGRÁFICOS

La pirámide de población de España sigue su evolución con un aumento de la edad promedio y un aumento de la proporción de personas mayores. La esperanza de vida es uno de los indicadores que mejor reflejan las condiciones sanitarias, sociales y económicas de un país, las mujeres tienen en España una esperanza de vida al nacer de 85,83 años y los hombres de 80,27 años.

Ahora que hemos conseguido vivir más años, nos preocupa la esperanza de vida en buena salud, queremos incluir una nueva dimensión a la cantidad de vida, midiendo también su calidad. Suele construirse a partir de datos generales sobre la morbilidad crónica y sobre la salud auto percibida. Se mide el porcentaje de tiempo que se vive en buena salud a partir de los 65 años.

En este caso los hombres viven más tiempo con buena salud que las mujeres, a partir de los 65 años los varones del tiempo restante por vivir lo es en buenas condiciones, es del 55,7%, mientras que se reduce al 43,8% en el caso de las mujeres. Como ya se ha apuntado, es algo subjetivo por lo que depende de las vivencias personales y de las expectativas creadas de los que nos rodean.

La valoración del propio estado de salud viene condicionada por las enfermedades padecidas, las características personales del individuo y por otras razones socioeconómicas o residenciales. Esta valoración también refleja los factores sociales, económicos y del entorno de la persona. Solamente el 50,7% de los mayores percibe su salud como buena o muy buena.

**Escriba a la derecha de cada línea de la lectura anterior cuántas veces aparece la letra "d" y reste tres al total, anótelos en la última.**

4

5

6

1

4

2

6

7

5

3

1

2

4

4

4

6

7

1

2

2

76-3

73

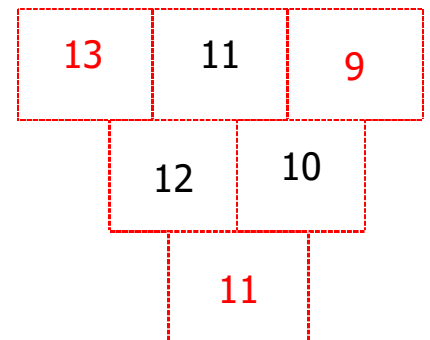
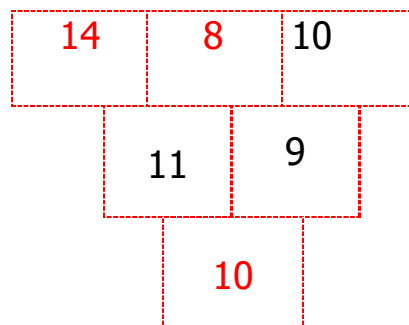
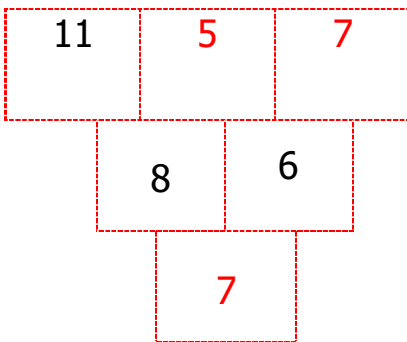
**Escriba una palabra que signifique lo contrario que la escrita (antónimo):**

Disfrutar	PADECER
Molestia	COMODIDAD
Único	MÚLTIPLE
Fantástico	MATERIAL
Respetar	MALTRATAR
Cariñoso	DISTANTE
Atractivo	DESAGRADO
Fornido	FLOJO
Energía	DEBILIDAD

**Averigüe la relación entre los números de cada columna y señale los incorrectos:**

A	B	C	D
+3	+5	+6	+7
7	3	8	10
11	8	14	17
14	13	20	24
17	18	26	30
20	22	21	38
22	28	38	45

**Rellena los espacios vacíos sabiendo que el número de cada casilla es el resultado de dividir entre dos la suma de los dos de arriba:**



**A partir de las siguientes 10 letras, forma palabras con el número de letras que se piden. Puede haber más de una solución:**

**S C H E P D A A I N**

De 10 letras: **ESPADACHÍN**

De 7 letras: **PEINADA**

De 9 letras: **DESPACHAN**

De 6 letras: **PISADA**

De 8 letras: **PINCHADA**

De 5 letras: **CHAPA**

**Observe el cuadro inferior y conteste las siguientes preguntas**

¿Cuántas casillas contienen el número 12? **7** ¿y el 34? **7**

¿Cuántas casillas contienen números mayores que 20? **17**

¿Cuántas casillas contienen números inferiores a 9? **40**

1	19	12	20	2	11	21	3	19	1	4	2
3	4	5	11	5	6	6	7	11	23	8	7
9	26	19	1	8	27	2	19	9	3	19	4
5	1	12	34	11	2	19	6	34	3	7	12
4	8	34	5	9	34	1	6	19	34	12	7
12	2	19	34	3	8	12	4	37	9	5	6
8	12	29	21	20	34	32	74	19	25	18	14

**El 17 de noviembre termina el festival de Cortos de Alcalá de Henares, fuimos a ver varios cortos, pero Juan no se acuerda cuando vimos el ganador del festival, si pasado mañana es jueves 18 de noviembre, fuimos al cine antes de ayer:**

**DOMINGO 14 DE NOVIEMBRE**

**Piensa en uno de los platos que más te guste y escribe los ingredientes principales con los que se cocine:**

**Pisto: calabacín, tomate, cebolla, pimiento rojo, pimiento verde, sal y pimienta negra. Me recuerda mi pueblo y mi familia porque lo cultivábamos en nuestro propio huerto**

**Resuelva los siguientes problemas:**

1. Si 2 kilos de garbanzos cuestan 4,50 euros, un litro de leche 0,90 y un kilo de cerezas 3,10 ¿cuánto cuesta todo?: **8,50 €**
2. ¿Cuánto le devuelven si paga con un billete de 20 euros?: **11,50 €**
3. Si un kilo de carne cuesta 12 euros ¿cuánto cuesta  $\frac{1}{4}$  de kilo?: **3 €**
4. ¿Cuánto le devuelven si paga con un billete de 10 euros?: **7 €**
5. Si un kilo de kiwis cuesta 3,15 euros, ¿cuánto cuestan 3 kilos?: **9, 45 €**
6. ¿Cuánto le devuelven si paga con un billete de 20 euros?: **10, 55 €**

Señale en cada fila la palabra que no se relaciona con el resto:

Caliente	<b>Blanco</b>	Templado	Helado
Verde	Amarillo	<b>Feo</b>	Rojo
<b>Ácido</b>	Duro	Suave	Blando
Plátano	<b>Trigo</b>	Sandía	Manzana
Coche	Moto	<b>Arco</b>	Bicicleta
Bufanda	<b>Gafas</b>	Guantes	Botas
Pelota	Rueda	Disco	<b>Parchís</b>

**Ejercicio de lógica:**  
Un niño se come un pastel en un minuto y medio. ¿Cuántos niños hacen falta para comer 60 pasteles en media hora?

**3 NIÑOS**

**Sudoku: debes completar las casillas vacías del 1 al 9 sin que se repitan por fila, columna o rectángulo sombreado:**

5	7	6	8	1	2	3	9	4
9	1	4	7	5	3	6	8	2
3	2	8	9	4	6	7	1	5
6	9	3	2	8	7	5	4	1
2	5	1	4	6	9	8	3	7
4	8	7	5	3	1	9	2	6
1	3	5	6	9	4	2	7	8
7	6	9	1	2	8	4	5	3
8	4	2	3	7	5	1	6	9

**Resta de 3 en 3 desde 170 hasta el final:**

167-164-161-158-155-152-  
149-146-143-140-137-134-  
131-128-125-122-119-116-  
113-110-107-104-101-98-  
95-92-89-86-83-80-77-74-  
71-68-65-62-59-56-53-5-  
47-44-41-38-35-32-29-26-  
23-20-17-14-11-8-5-2

**Ordena los siguientes refranes y explica brevemente su significado:**

ANDADURA VIEJO CABALLO DE MUDA NO

**CABALLO VIEJO NO MUDA DE ARMADURA.** A medida que nos hacemos mayores nos cuesta hacer cambios.

REIR TAN LLORAR ABRIL, COMO PRONTO

**ABRIL, TAN PRONTO LLORAR COMO REIR.** Este mes es muy cambiante en relación a la meteorología.

HOGAÑO, HARÉ OS OTRO HACHEDME VOS AÑO. Y ALCALDE A YO HADME ALCALDE HOGAÑO, Y YO OS HARÉ OTRO AÑO. Hoy por mí, mañana por ti. HOY, TODO ANTAÑO, AÑO SALUD DE Y AÑO. AYER VINO PARA DE EL CARNE DE PAN

**PAN DE AYER, CARNE DE HOY Y VINO DE ANTAÑO, SALUD PARA TODO EL AÑO.** Siguiendo las recomendaciones tendrás más salud.